

1. (2020 青岛中考) 读南亚作物分布图和年降水量分布图以及孟买的气温曲线和降水柱状图完成问题。

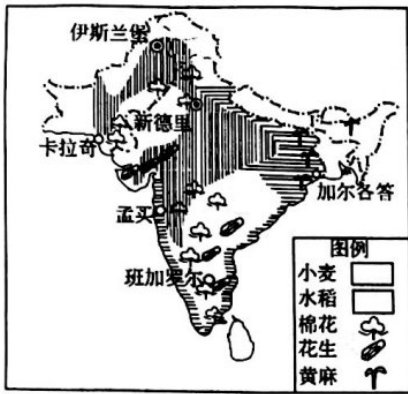


图 17

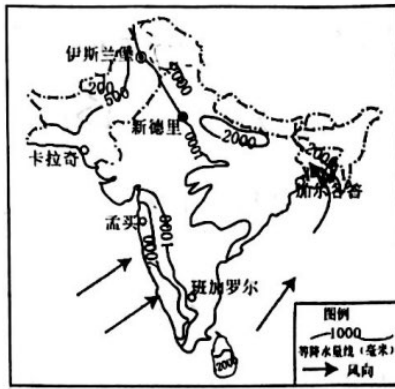


图 18

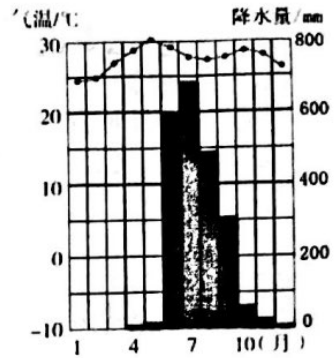


图 16

(1) 读图 17, 南亚地区主要的粮食作物有 小麦 水稻 主要的经济作物有 棉花 黄麻 (各写一个)

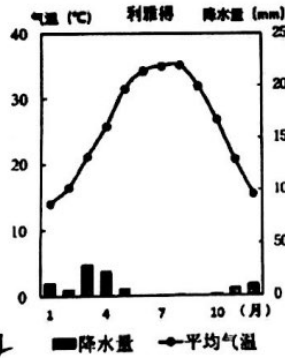
(2) 小麦性喜温凉, 比较耐旱; 水稻喜温喜湿, 生长期需要充足的水分条件。请在图 17 中将小麦和水稻的图例补充在相应的方格内。

(3) 南亚地区种植水稻一般在“雨季播种, 旱季收获”, 这与图 18 中的 西南 方向的季风密切相关, 分析该季风对农业生产的不利影响 西南季风不稳定, 易发生旱涝灾害

(4) 据图可知, 孟买属于 热带季风 气候, 该气候的特点是: 终年高温, 降水旱雨两季

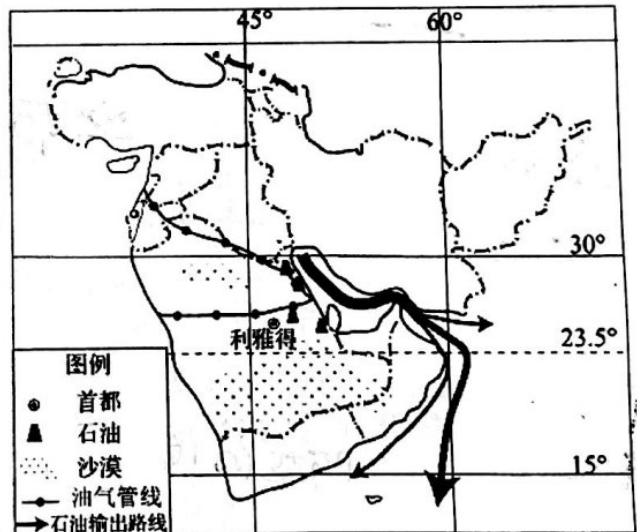
2. (2020 青岛中考) 读沙特阿拉伯地区地图完成下列问题。

(1) 该地区沙漠广布, 沙特阿拉伯首都利雅得的气候类型为 热带沙漠气候 该地区河流稀少, 因此 水 资源缺乏。



(2) 利雅得气候类型的特点是 终年炎热干燥

(3) 沙特阿拉伯石油的产量和出口量都居世界前列, 从图中可知, 石油主要通过 海运 两种运输方式输往国外。

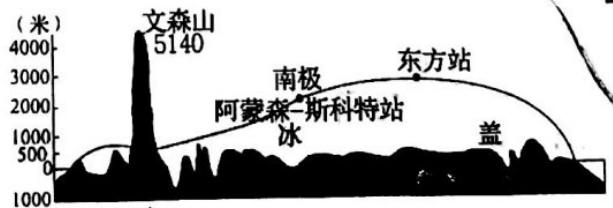


(4) 写出从波斯湾运输石油经过苏伊士运河到意大利要经过的海域、海峡。

波斯湾 → 霍尔木兹海峡 → 阿拉伯海 → 曼德海峡 → 红海 → 苏伊士运河

(5) 沙特阿拉伯两面靠海, 因此可以采取 海水淡化 的方式和抽取地下水的方式来缓解缺水问题。在农业生产中, 为了克服水资源的短缺, 该国还采取的节水技术是 喷灌, 滴灌

(2020 青岛中考) 读右图沿着东西经 90° 附近南极洲地形剖面图回答问题。



3. 东方站位于阿蒙森斯科特站的方向是 (A)

A. 正北 B. 正东 C. 正西 D. 正南

4. 扣除了冰层, 南极洲主要的地形类型是 (C)

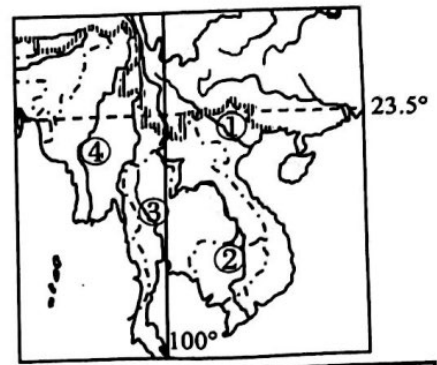
A. 平原 B. 山地 C. 高原 D. 丘陵



(2019 青岛中考) 读图中南半岛, 完成下列小题。

3. 据图判断, 该区域的地势特征是 (C)

- A. 中部高四周低
- B. 地势平坦
- C. 北部高南部低 北高南低
- D. 东北高西南低



4. 图中序号表示的河流中, 流经国家最多的是 (B)

- A. ①
- B. ②
- C. ③
- D. ④

5. (2019 青岛中考地理) 读世界局部地区地图, 回答问题。

(1) 海上石油运输路线①②③三条线路中, 输出的必经之地是 霍尔兹 海峡。

(2) 写出①线运往日本要经过的海峡和海。

(3) 路线②和③的目标市场都是 西欧美国 但是运量不同, 运量更大的是 ② 线。

(4) 西亚石油生产国的外籍劳工多来自埃及, 主要原因是两个区域 (D)

①人种、语言、宗教相同 ②劳动力需求相同 ③经济发展水平相同 ④地理位置临近

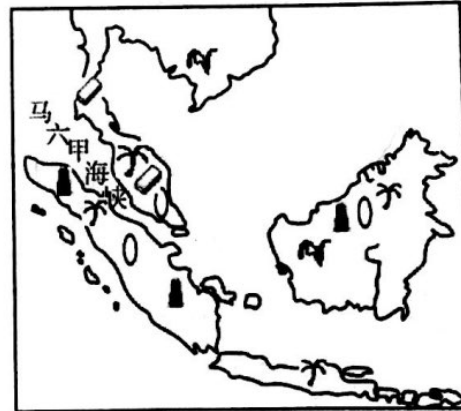
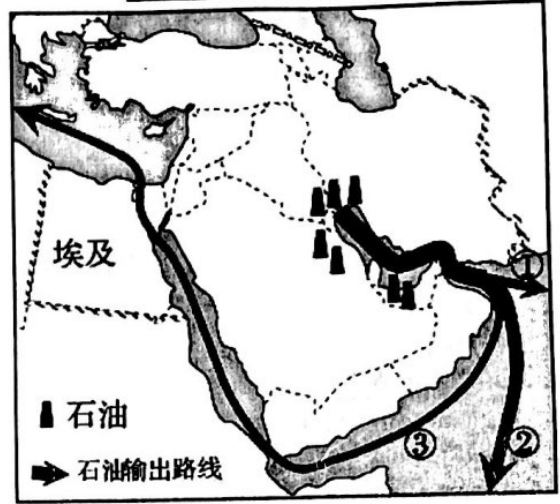
- A. ①②
- B. ②③

- C. ③④
- D. ①④

6. (2018 青岛地理) 读世界某区域地区, 完成问题。

(1) 图示区域主要的经济作物是 椰子 油棕。

(2) 通过图中海峡运往日本的主要能源是 石油。



图例

- 水稻
- 天然橡胶
- 石油
- 油棕
- 锡

7. (2018 青岛中考) 读南亚冬季等温线分布图和南亚地形分布图, 回答问题。

(1) 卡拉奇附近的河流是 印度河, 它注入了 阿拉伯海 水域; 加尔各答附近的河流是 恒河, 它注入了 孟加拉湾。

(2) 卡拉奇位于的地形区是 印度河平原, 加尔各答位于的地形区是 恒河平原, 班加罗尔位于的地形区是 德干 高原。

(3) 图 7 所示的季节, 南亚地区盛行 东北 季风, 该季节陆地和海洋 海洋 的气温高 陆地 的气温低。

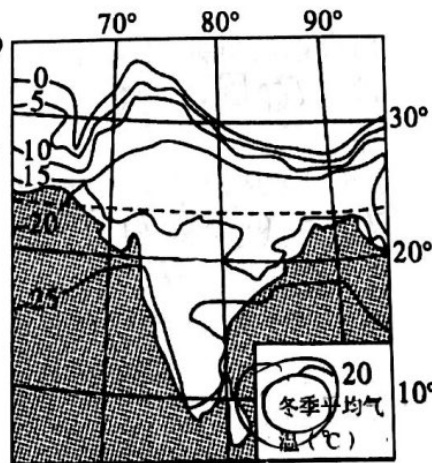


图 7



图 8

(4) 图示地区的等温线特点, 北部比较密集, 影响因素是 地形因素; 中部等温线与纬线平行, 影响因素是 纬度因素。

