

8. (2017 青岛中考) 读中巴铁路、输油管道路线图 and 图 23 孟买气候资料图和图 24 安拉阿巴德气候资料图完成问题。

(1) A 山脉是 喜马拉雅山脉

(2) A 山脉对南亚气候影响明显, 安拉阿巴德 1 月份气温比同纬度地区气温要 高 (高/低)。

(3) 自古以来 A 山脉就阻隔了中国和南亚地区的联系, “一带一路”的实施, 特别是中巴铁路的设计, 加强了我国与 印度洋 (大洋) 地区的联系, 大大缩短了西亚地区 石油 (资源) 输送到我国的距离, 丰富了我国能源进口的通道。

(4) 孟买和安拉阿巴德气候类型相同, 但是孟买年降水量明显 多 (多/少), 结合图中信息分析原因

① 距海近 ② 位于山脉的迎风坡 降水多  
(2 条)

9. (2016 青岛中考) 读图南亚地区农作物分布图完成问题。

(1) 棉花主要分布在 西北部。

小麦主要分布在 西北部。

水稻主要分布在 东部和南部。

黄麻主要分布在 东北部。

(2) ①②③④ 四个城市最适合发展棉纺织工业的城市是 ① (填数字) ; 最适合发展麻纺织的工业城市是 ④ (填数字)

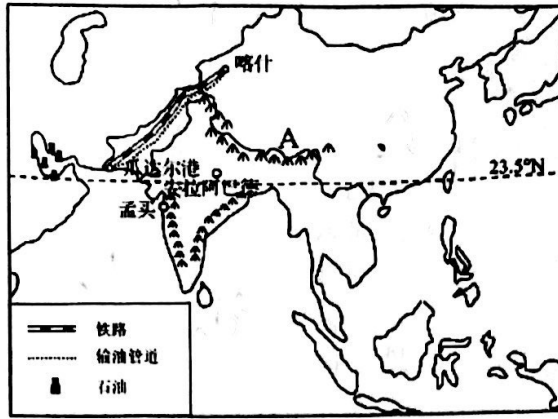
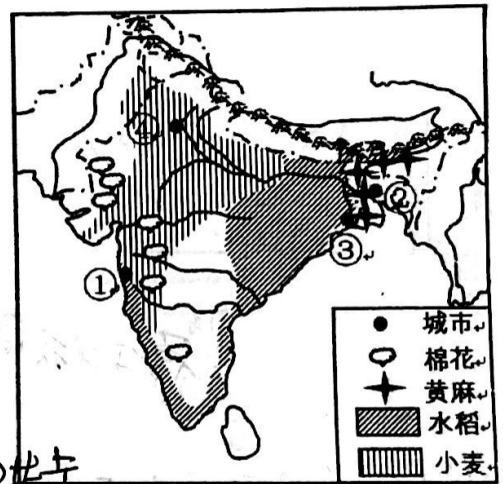


图 22

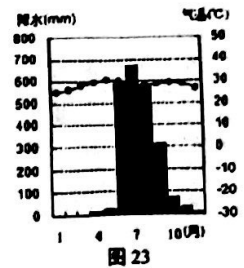


图 23

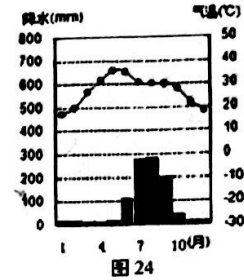


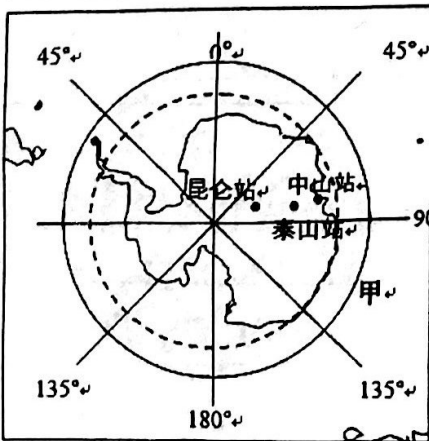
图 24

10. (2016 青岛中考) 当你徜徉在亚洲的甲地古城的街头, 吸引目光的是浓郁的宗教文化。读亚洲部分地区图, 完成问题。

(1) 甲地位于亚洲的分区为 西亚, 甲国家主要出口的产品是 石油。

(2) 甲地居民主要信奉的宗教是 伊斯兰教。

11. (2016 青岛中考) 读南极地区简图回答问题。



(1) 北京时间东八区 2016 年 2 月 7 日 22 时, 某工程师在长城站 (西四区) 参加了央视春晚微信抢红包活动, 该工程师抢红包的当地时间 2月7日 10:00

(2) 我国四个南极科学考察站位于南极圈以外的是 长城站, 2 月 7 日南极圈以内可能有 极昼/极夜 现象。

(3) 每年 12-2 月是南极科考最佳的时期, 请解释原因 (2 分)

① 为暖季, 气温高 ② 有极昼现象有利于科考

(4) 甲处是 印度洋。



(2015 青岛中考) 读图 7 欧洲部分图, 完成 14--16 题。

12. 下列旅游资源与国家搭配正确的是 ( B )
- A. 水城威尼斯——③      B. 阿尔卑斯山——②
- C. 罗浮宫——①      D. 陡峻幽深的峡湾——④
13. 该地区的主要人种是 ( A )
- A. 白色人种      B. 黄色人种
- C. 黑色人种      D. 混血人种
14. 该地区乳畜业发达的最主要的社会因素是 ( B )
- A. 气候要素      B. 市场因素
- C. 交通因素      D. 地形因素
15. (2015 青岛中考) 读西亚地区相关地图和气候资料, 完成下列问题。(7 分)



图 7

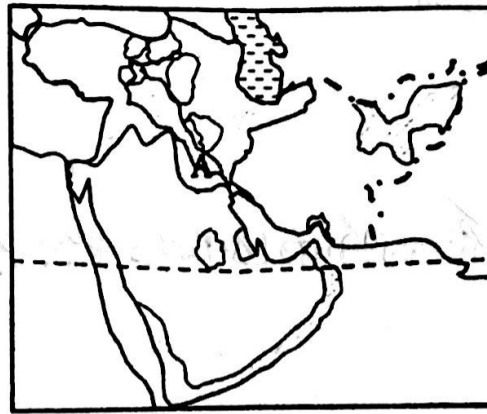
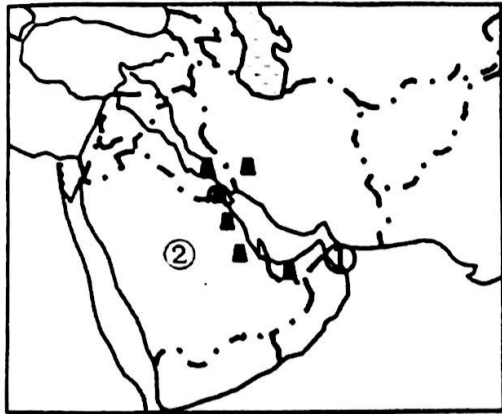


图 18 西亚国家分布简图

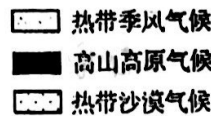
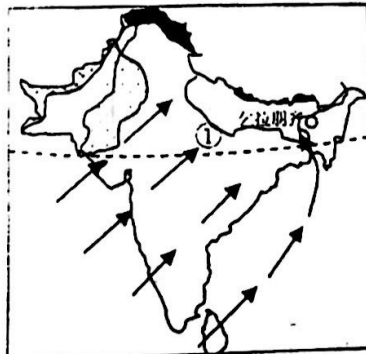
图 19 西亚地区人口密度图

- (1) ①海峡的名称 霍尔木兹海峡, ②国家的名称 沙特阿拉伯。(2 分)
- (2) 西亚地理位置非常重要, 被称为“五洲三山之地”。(1 分)
- (3) 据图分析, A 地区人口密度较大的主要自然原因。(2 分)

位于河流沿岸/水源充足/位于平原/地形平坦 0.5 x 4 = 2分

16. (2015 青岛中考组合) 读南亚地区地图回答问题

- (1) ①河流的名称是 恒河, 该河流的流量的季节变化 大 (大/小)。



- (2) 乞拉朋齐被称为地球的雨极, 分析其降水量多的原因。

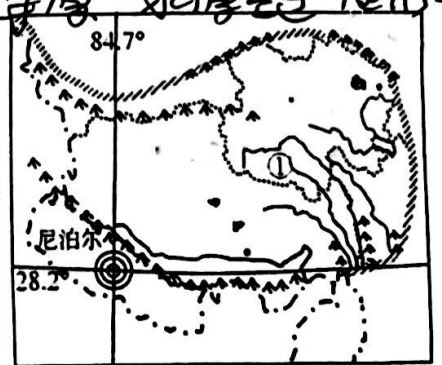


图 21 南亚地区气候类型分布图

- (3) 运用板块构造学说的原理来解释尼泊尔多地震的原因。(2 分)

位于欧亚板块和印度洋板块的交界地带

地壳活跃

